

学校法人 仙台育英学園 秀光中等教育学校  
2019年度 東京選抜試験

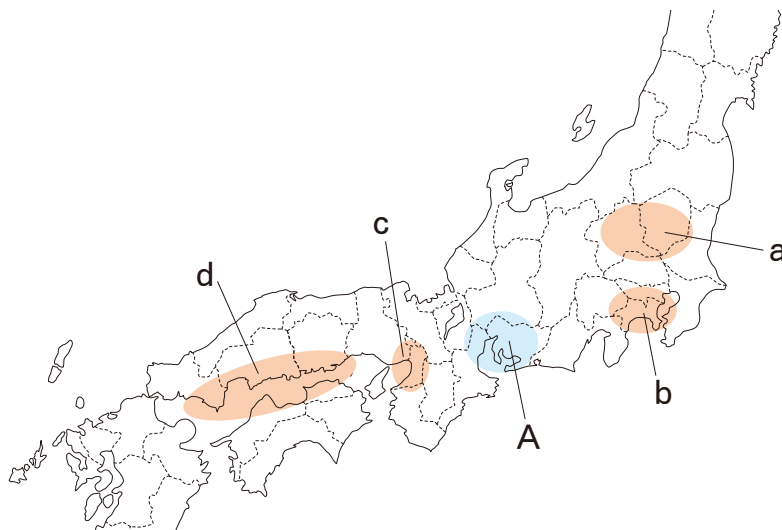
社 会

(第1問～第4問)

注意

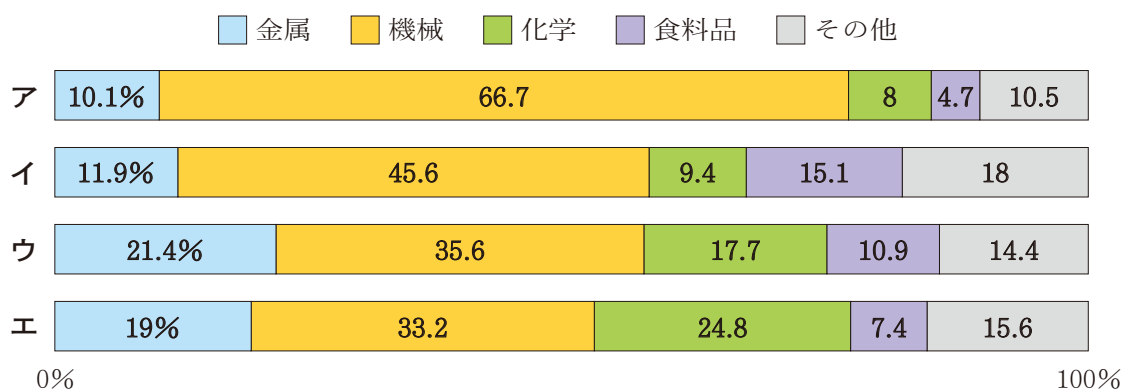
- ・試験開始の合図があるまで，問題用紙を開かないこと。
- ・この問題冊子は11ページあります。
- ・答えはすべて解答用紙に記入しなさい。

**第1問** 次の資料1は日本の主な工業地帯（地域）を示したものです。これを見て各問いに答えなさい。



資料1 日本の主な工業地帯（地域）

問1 資料1にあるAの工業地帯（地域）の名称を書きなさい。また、Aの工業地帯（地域）の生産額の内訳を示したグラフはどれか、適当なものを次のア～エからひとつ選んで記号で答えなさい。



（『2017/18 日本国勢図会』より作成）

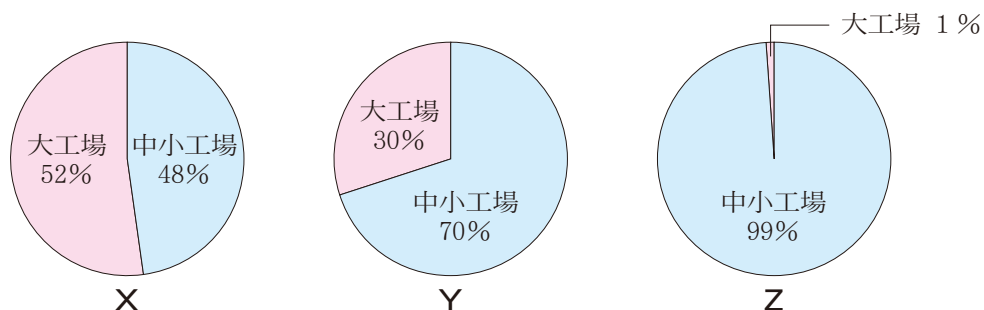
問2 資料1にあるAの工業地帯（地域）を流れる木曾川、揖斐川、長良川の3つの川の下流域の人々の暮らしについて述べた文はどれか、適当なものを次のア～エからひとつ選んで記号で答えなさい。

- ア 広大な平地と夏もすずしい気候を利用し、小麦、あずき、じゃがいもなどの農産物が生産されている。大型の機械を使った大規模な農業が営まれている。
- イ 川が上流から運ぶ土と豊かな雪解け水による米づくりがさかんに行われており、「はえぬき」「つや姫」などの品種も開発されている。
- ウ 大規模な治水事業によって、水はけが悪く水路が入り組んだ低地が改良され、今では米のほかに野菜や果物も作られている。
- エ 冬でもあたたかい気候を利用し、ビニールハウスできゅうりなどの野菜が栽培され、大都市を中心に全国各地の市場に送られている。

（答えはすべて解答用紙に記入しなさい）

- 問3 次のア～エの文は、資料1にあるa～dの工業地帯（地域）の特色を述べたものです。aに当てはまるものはどれか、次のア～エからひとつ選んで記号で答えなさい。
- ア 自動車道沿線に機械や食料品加工などの工業団地が形成され、そこで生産された製品の多くは、国道などを利用して大都市圏や貿易港に運ばれている。
- イ 湾岸には鉄鋼業・石油化学工業・機械工業が、南部には繊維工業・醸造業が発達している。第二次世界大戦前は、日本最大の工業生産額をあげていた。
- ウ 海上交通の便がよく、沿岸の埋立地を活用した伝統的な造船業、繊維工業のほか、石油化学コンビナートや製鉄所が進出している。
- エ 鉄鋼・機械・化学などの重化学工業が発達し、第二次世界大戦後は日本最大の生産額をあげていた。印刷業の割合が高く、中小工場も多い。

- 問4 次のX～Zのグラフは、日本の大工場と中小工場を、工場数、従業員数、出荷額で比べたものです。大工場と中小工場の占める割合の組み合わせとして適当なものはどれか、下のア～カからひとつ選んで記号で答えなさい。



(『2014年／工業統計表』より作成)

	工場数	従業員数	出荷額		工場数	従業員数	出荷額
ア	X	Y	Z	エ	Y	Z	X
イ	X	Z	Y	オ	Z	X	Y
ウ	Y	X	Z	カ	Z	Y	X

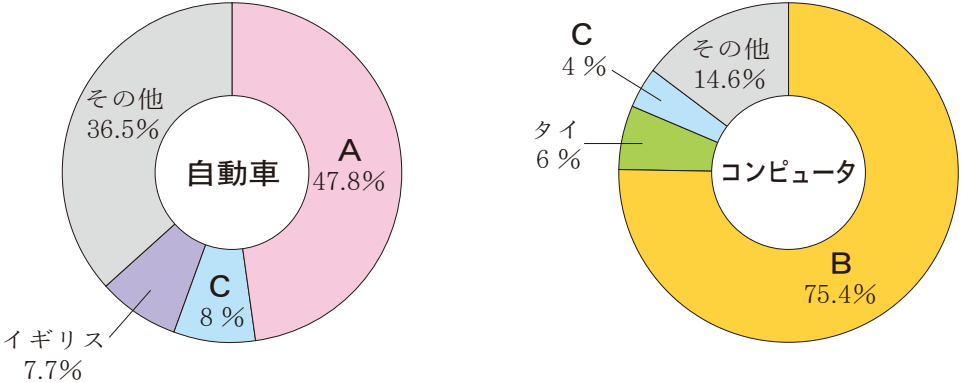
- 問5 資料1のA、b、cなどの工業地帯（地域）を中心にして日本は1960年代に高い経済成長をなしとげましたが、他方、国内では大規模な公害が発生し、その対応が大きな課題となりました。この時期に起きた次の代表的な公害A～Cについて述べた文はどれか、適当なものを下のア～エからそれぞれひとつ選んで記号で答えなさい。

A 水俣病      B イタイイタイ病      C 四日市ぜんそく

- ア 神通川上流の鉱山から流れ出たカドミウムにより汚染された農産物を食べ続けた人々に、骨が折れやすくなる病気が広がっていった。
- イ 銅山の開発によって排出された亜硫酸ガスや銅廃棄物が周辺の山林や渡良瀬川流域を荒廃させ、農作物や川魚に著しい被害をもたらした。
- ウ 湾岸に建設された石油化学コンビナートが排出する亜硫酸ガスによって大気が汚染され、周辺に暮らす人々に激しい咳や発作、呼吸困難などの症状が発生した。
- エ 八代海にメチル水銀が含まれた工場排水が流れ込み、それによって汚染された魚貝類を食べた人々にメチル水銀中毒が発症した。

(答えはすべて解答用紙に記入しなさい)

問6 次の資料2は、2015年現在における自動車とコンピュータの日本の輸入相手国を示しています。輸入相手国A、Bの組み合わせとして適当なものを、下のア～エからひとつ選んで記号で答えなさい。



資料2 自動車とコンピュータの日本の輸入相手国  
(『2016/17 日本国勢図会』より作成)

	A	B
ア	アメリカ	中国
イ	ドイツ	中国
ウ	ドイツ	アメリカ
エ	アメリカ	ドイツ

問7 次の資料3は、1960年代から2010年代までの日本経済及び国際経済に関する主な出来事示した年表です。これを見て、次の(1)、(2)の各問いに答えなさい。

1964年	第18回オリンピック（東京）開催
1971年	ニクソン・ショック
1973年	第一次石油危機
1979年	第二次石油危機
1985年	プラザ合意
1989年	消費税導入（3%）
1991年	牛肉・オレンジ輸入自由化実施
1997年	アジア通貨危機
2008年	サブプライムローン問題による世界金融危機
2016年	T P P（環太平洋パートナーシップ）協定に12カ国が署名・・・b

資料3 日本経済及び国際経済に関する主な出来事

(1) 年表中aの時期に日米間に激しい貿易摩擦が生じました。この時に日本からアメリカに大量に輸出され、摩擦の主な原因となったものを、次のア～エからひとつ選んで記号で答えなさい。

- ア 繊維製品
- イ 鉄鋼
- ウ 自動車
- エ 液晶テレビ

(2) 年表中bのT P P協定に2016年に署名し、2017年に離脱した国はどこか、次のア～エからひとつ選んで記号で答えなさい。

- ア 韓国
- イ アメリカ
- ウ 日本
- エ 中国

(答えはすべて解答用紙に記入しなさい)

**第2問** 次の資料中A～Mの文は、日本の外交について述べたものです。これを読み、各問いに答えなさい。

資料

A 紀元前1世紀頃の日本は前漢の歴史書において倭と記録されていた。

B ( 1 ) の皇帝の永楽帝は、①室町幕府の将軍を日本国王に任命し、勘合を与えて貿易を行った。

C 平清盛が( 2 ) との貿易のために<sup>せつづのくに</sup>摂津国に<sup>おおわだのともり</sup>大輪田泊という港を開いた。

D 豊臣秀吉は軍勢を朝鮮半島北部にまで進めたが、朝鮮に( 1 ) の援軍が到着すると和睦した。

E ②倭の王が魏に使いを送り、称号や銅鏡などを授けられた。

F ③小野妹子が使者として隋に派遣された。

G ( 3 ) の軍勢が対馬、壱岐、九州北部沿岸を襲撃したが、武士たちが協力して撃退した。

H ( 4 ) から来日した僧が戒律を伝え、唐招提寺を開いた。

I ( 5 ) から来航する商船の入港は、④ヨーロッパの商船と同じく、長崎1港に限定された。

<ア>

J ⑤アメリカの使節が4隻<sup>せき</sup>の軍艦を率いて、浦賀に来航した。

<イ>

K ⑥<sup>えんせいがい</sup>中華民国の袁世凱政府に二十一カ条の要求を提出し、大部分の要求を認めさせた。

<ウ>

L 日独伊三国同盟が結ばれ、軍部のアジアでの軍事行動が進行した。

<エ>

M 田中角栄首相が訪中して<sup>しゅうおんらい</sup>周恩来首相と日中共同声明を発表し、国交正常化を実現した。

**問1** 文中の空欄( 1 )～( 5 )にあてはまる国名の組み合わせとして正しいものを、次のア～オからひとつ選んで記号で答えなさい。

	( 1 )	( 2 )	( 3 )	( 4 )	( 5 )
ア	元	唐	宋	清	明
イ	元	宋	明	唐	清
ウ	明	唐	元	宋	清
エ	明	元	清	宋	唐
オ	明	宋	元	唐	清

(答えはすべて解答用紙に記入しなさい)

問2 下線部①の室町幕府の将軍について述べた文として正しいものを、次のア～エからひとつ選んで記号で答えなさい。

ア 鎌倉幕府を倒して後醍醐天皇の政治を助けたが、後に天皇にそむいて室町幕府を開いた。

イ 室町幕府の組織を完成させて武家と公家を強力に支配し、京都の鹿苑寺に金閣を建てた。

ウ 禅を好み、京都の慈照寺に銀閣を建てたが、政治の混乱を招き、それが応仁の乱の原因となった。

エ 織田信長とともに京都を支配したが、やがて対立を深め、後に信長によって追放された。

問3 下線部②の王と、この人物と同じ時代に造られたものの組み合わせとして正しいものを、次のア～エからひとつ選んで記号で答えなさい。

ア 推古天皇 — 法隆寺                      イ 推古天皇 — 東大寺正倉院

ウ 卑弥呼 — 高松塚古墳                  エ 卑弥呼 — 吉野ヶ里遺跡

問4 下線部③の人物が隋に派遣されたのと同じ時期に、日本国内で行われていた政治について述べた文として**適当でないもの**を、次のア～エからひとつ選んで記号で答えなさい。

ア 家柄や出身地に関係なく、能力や功績で役人に取り立てた。

イ 和を第一とし、仏法僧を尊ぶなど、政治を行う役人の心構えを示した。

ウ 女性の天皇のもとで、天皇の政治を皇子が補佐するしくみが行われていた。

エ 天皇の位をゆずった後も、上皇として政治を引き続き行っていた。

問5 下線部④のヨーロッパの国のうち、江戸幕府によって鎖国が行われた後も長崎への入港が許された国はどこか、次のア～エからひとつ選んで記号で答えなさい。

ア イギリス      イ ポルトガル      ウ スペイン      エ オランダ

(答えはすべて解答用紙に記入しなさい)



問6 下線部⑤のアメリカの使節の来航と関係が深い世界遺産の写真を，次のア～エからひとつ選んで記号で答えなさい。

ア



イ



ウ



エ



問7 下線部⑥の中華民国を建国した人物は誰か，漢字2字で書きなさい。

問8 次の（i），（ii）の文は資料（4 ページ）の＜ア＞～＜エ＞のどこに入れるのが適当か，ひとつ選んで記号で答えなさい。

（i）ドイツ人医師のシーボルトが来日し，鳴滝塾で高野長英らの門人を育てた。

（ii）ロシアとの講和会議をアメリカのポーツマスで開催した。

問9 資料（4 ページ）のB～Hの文を時代の古い順に並べ替えた場合，3番目と5番目にくるものをそれぞれ記号で答えなさい。

（答えはすべて解答用紙に記入しなさい）

**第3問** 次の資料は、日本国憲法の条文の一部です。これを読み、各問いに答えなさい。

**資料**

〔第1章〕天皇

第1条 天皇は、日本国の象徴であり日本国民統合の象徴であつ（つ）て、この地位は、主権の存する日本国民の総意に基く。

第7条 天皇は、内閣の助言と承認により、国民のために、左の①国事に関する行為を行ふ（う）。

〔第2章〕戦争の放棄

第9条 日本国民は、正義と秩序を基調とする②国際平和を誠実に希求し、国権の発動たる戦争と、武力による威嚇又は武力の行使は、国際紛争を解決する手段としては、永久にこれを放棄する。

〔第3章〕国民の権利及び義務

第25条 すべて国民は、で文化的な最低限度の生活を営む権利を有する。

〔第4章〕国会

第41条 国会は、国権の最高機関であつ（つ）て、国の唯一の立法機関である。

第42条 国会は、③衆議院及び参議院の両議院でこれを構成する。

〔第5章〕④内閣

第68条 内閣総理大臣は、国务大臣を任命する。但し、その（ a ）は、国会議員の中から選ばなければならない。

〔第6章〕司法

第76条 すべて⑤司法権は、最高裁判所及び法律の定めるところにより設置する下級裁判所に属する。

〔第9章〕改正

第96条 この憲法の改正は、各議院の総議員の（ b ）の賛成で、国会が、これを発議し、国民に提案してその承認を経なければならない。この承認には、特別の国民投票又は国会の定める選挙の際行は（わ）れる投票において、その（ c ）の賛成を必要とする。

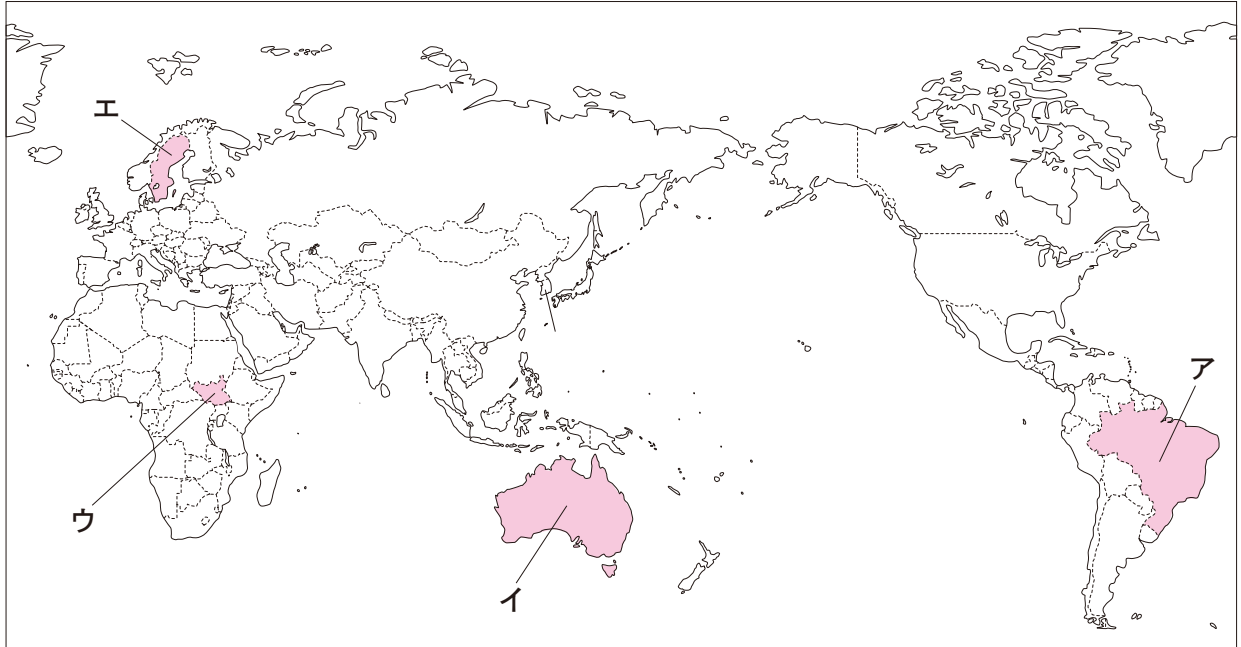
**問1** 下線部①について、天皇の国事行為として適当でないものを、次のア～エからひとつ選んで記号で答えなさい。

- ア 国会の指名に基づく内閣総理大臣の任命
- イ 国会の召集
- ウ 内閣の指名に基づく最高裁判所長官の任命
- エ 条約の締結

（答えはすべて解答用紙に記入しなさい）



問2 下線部②について、これを実現する方法の一つとして国際連合の平和維持活動（P K O）があり、日本ではP K O協力法に基づいて自衛隊が派遣されています。この法律に基づいて自衛隊が派遣されたことがある国・地域として適当なものを、下の地図中ア～エからひとつ選んで記号で答えなさい。



問3 文中  にあてはまる語句を、漢字2字で書きなさい。

問4 下線部③について、衆議院と参議院に関して述べた文として適当でないものを、次のア～エからひとつ選んで記号で答えなさい。

- ア 予算の先議や内閣不信任決議など、衆議院の優越が認められている。
- イ 衆議院の任期は4年であり、解散がある。
- ウ 参議院は、衆議院よりも議員定数が多い。
- エ 参議院の被選挙権は、30歳以上に与えられる。

問5 下線部④について、内閣やその他の行政機関に関して述べた文として適当でないものを、次のア～エからひとつ選んで記号で答えなさい。

- ア 内閣によって制定される命令のことを、政令という。
- イ 衆議院で内閣の不信任決議案が可決された場合、内閣は10日以内に衆議院を解散するか、総辞職しなければならない。
- ウ 内閣の発案によって成立した法律よりも、国会議員の発案によって成立した法律の方が多い。
- エ 2001年に、環境庁が改組され、環境省が設置された。

（答えはすべて解答用紙に記入しなさい）

問6 下線部⑤について、次の資料は、2016年現在におけるアメリカ・イギリス・フランス・日本の人口10万人あたりの裁判官・検察官・弁護士の数比べたものです。日本に当てはまるものは資料中のA国～D国のうちどれか、下のア～エからひとつ選んで記号で答えなさい。

資料

	裁判官	検察官	弁護士
A 国	9.9人	10.2人	378.8人
B 国	5.7人	4.3人	246.3人
C 国	8.7人	2.9人	93.4人
D 国	2.2人	1.5人	29.6人

(『弁護士白書2016年版』より作成)

ア A 国      イ B 国      ウ C 国      エ D 国

問7 文中 ( a ) ～ ( c ) に当てはまる語の組み合わせとして正しいものを、次のア～エからひとつ選んで記号で答えなさい。

	( a )	( b )	( c )
ア	3 分の 2 以上	3 分の 2 以上	過半数
イ	3 分の 2 以上	過半数	3 分の 2 以上
ウ	過半数	3 分の 2 以上	過半数
エ	過半数	過半数	3 分の 2 以上

(答えはすべて解答用紙に記入しなさい)

**第4問** 次の写真は、大韓民国と朝鮮民主主義人民共和国の板門店宣言発表時（2018年4月27日）のものです。これを見て各問いに答えなさい。



**問1** 板門店宣言発表時の大韓民国と朝鮮民主主義人民共和国の両首脳の組み合わせとして正しいものを、次のア～エからひとつ選んで記号で答えなさい。

大韓民国	朝鮮民主主義人民共和国
ア 李明博（イ・ミョンバク）	金正日（キム・ジョンイル）
イ 文在寅（ムン・ジェイン）	金正日（キム・ジョンイル）
ウ 李明博（イ・ミョンバク）	金正恩（キム・ジョンウン）
エ 文在寅（ムン・ジェイン）	金正恩（キム・ジョンウン）

**問2** 板門店宣言の内容として**適当でないもの**を、次のア～エからひとつ選んで記号で答えなさい。

- ア 各分野の対話と交渉を進め、関係改善と発展のための対策を積極的に進める。
- イ 完全な非核化を通じて核のない朝鮮半島を実現するという共通の目標を確認する。
- ウ 軍事的緊張を緩和（かんわ）するため、南北の合同軍事訓練を定期的を実施する。
- エ 民族分断により発生した人道的な問題を協議解決していくこととする。

**問3** 大韓民国と朝鮮民主主義人民共和国の首都名をそれぞれ**カタカナ**で書きなさい。また、その位置として適当なものを、右の地図中のA～Dからそれぞれひとつ選んで記号で答えなさい。

**問4** 右の地図中にあるXのラインは、軍事境界線を示しています。この境界線は1950年に勃発した戦争をきっかけに引かれるようになりました。この戦争の名を書きなさい。



（答えはすべて解答用紙に記入しなさい）

問5 Xの軍事境界線による朝鮮半島の分断には、ソ連を中心とする陣営とアメリカを中心とする陣営の武器を交えない対立が影響しています。この対立により引き起こされた戦争の事例として適当なものを、次のア～エからひとつ選んで記号で答えなさい。

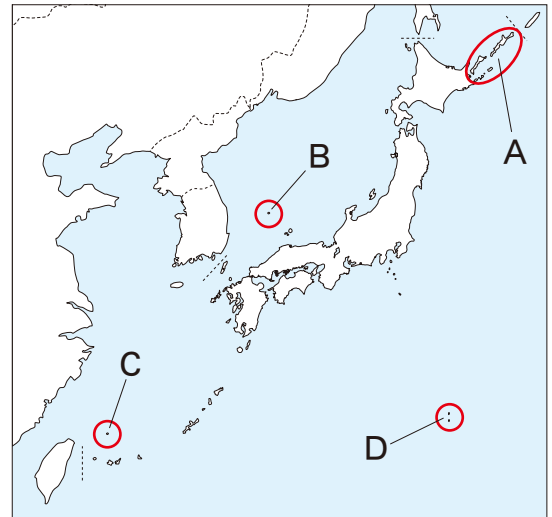
ア 第二次世界大戦    イ ベトナム戦争    ウ 湾岸戦争    エ 第一次世界大戦

問6 日露戦争後に日本は韓国の保護化を進め、1905年に外交を担う統監府<sup>とうかんふ</sup>を置きました。その初代統監となった人物は誰か、適当なものを次のア～エからひとつ選んで記号で答えなさい。



ア 伊藤博文    イ 大久保利通    ウ 西郷隆盛    エ 木戸孝允

問7 ある領土がどちらの国に属するかについて日本と大韓民国の主張が対立しています。その領土として適当なものを、次のア～エからひとつ選んで記号で答えなさい。また、その位置はどこか、適当なものを右の地図中のA～Dからひとつ選んで記号で答えなさい。

ア 尖閣諸島<sup>せんかく</sup>    イ 北方四島  
ウ 小笠原諸島    エ 竹島



問8 日本は朝鮮半島と古くから交流があり、朝鮮半島を通じて様々な文化や技術が日本に伝わっています。朝鮮半島を通じて日本に伝わってきた文化や技術ともっとも関係の薄いものを次のア～エからひとつ選んで記号で答えなさい。

ア     イ 

ウ



エ



(答えはすべて解答用紙に記入しなさい)