

学校法人 仙台育英学園 秀光中等教育学校
2020年度 東京選抜試験

社 会

(第1問～第4問)

注意

- ・試験開始の合図があるまで、問題用紙を開かないこと。
- ・この問題冊子は12ページあります。
- ・答えはすべて解答用紙に記入しなさい。

第1問 次の文章は父親と小学生の娘との会話を示したものである。これを読んで各問いに答えなさい。

父：11月24日は「和食の日」です。知っているかな？

娘：そうなんだ。

父：また平成25年12月にユネスコ（国連教育科学文化機関）は「和食；日本人の伝統的な食文化」をユネスコ無形文化遺産に登録したんだ。昔ながらの和食は「一汁三菜」^{いちじゅうさんさい}とって、ご飯と汁物に3種類のおかず（主菜、副菜2品）からなる栄養バランスのよい食事となっているんだ。

娘：お父さん、くわしいね。

父：和食の献立は日本人の主食であるお米に、肉、魚、卵、大豆などの主に体をつくるもとになるタンパク質を豊富に含んだ主菜と、野菜、きのこ、^{かいそう}いも、海藻などが入った2品の副菜、さらに汁物がついている。汁物はこんぶやかつおぶしなどで^{だし}出汁をとって味噌や塩で味付けした具入りの汁なんだ。この和食の献立は栄養のバランスがすごくいいので、今、世界から注目されているんだよ。

娘：①日本の国土は南北に長く海や山からたくさんの種類の新鮮な食材がとれるって学校で習ったよ。それを使った料理だね。

父：②スーパーに地元産の野菜が多く並んでいるね。それを使った料理はおいしいけれど、今は外国からの輸入品が多いんだ。

娘：お肉なんかも外国産が目立つよ。

父：そうだね。日本で生産量が少ないものや、同じ生産物でも価格の安いものを外国から輸入しているんだね。食べ物のうち、自分の国で作られた割合を表す数字を③食料自給率というんだ。

娘：食料自給率って農産物や水産物で品目によって違うんだってね。汁物の④^{みそ}味噌や豆腐^{とうふ}の材料である大豆や、牛肉、豚肉、小麦などもたくさん輸入しているんだよね。安い外国産の農産物の輸入が増えてきているんだね。

父：また和食の主な食材でもある魚介類をとる水産業も重要な産業の一つなんだ。日本は国土のまわりを海で囲まれた島国で、水産資源を管理できる（⑤）海里水域は国土面積の10倍以上もあるんだ。それは遠くにある東西南北の端の島のおかげなんだ。

娘：えっと、⑥択捉島^{えとろふとう}、南鳥島^{みなみとりしま}、沖ノ鳥島^{おきのとりしま}、与那国島^{よなぐにじま}だ。

父：よく知っているね。日本は海洋国で⑦4つの大きな海流に囲まれているんだ。そして「潮目」とって、寒流と暖流が混じりあっているよい漁場が三陸沖にあるんだ。だから⑧水産業がさかんな地域が多いんだ。おいしいカツオが食べられるのも、その海流にのって日本近海にやってくるからなんだよ。

父：近年は日本人の食生活が変化し、高脂質・高カロリーのものが多く食べられるようになったために栄養バランスが乱れて、肥満者の割合が増加しているんだ。食事に国産のものを取り入れて、健康も食料自給率もアップさせたいね。

（答えはすべて解答用紙に記入しなさい）

問1 下線部①について、次の各問いに答えなさい。

- (1) 資料1は、2016年の米、レタス、りんご、みかんの県別収穫高の順位を示したものである。レタスの収穫高を表しているものを、資料中のア～エからひとつ選んで記号で答えなさい。

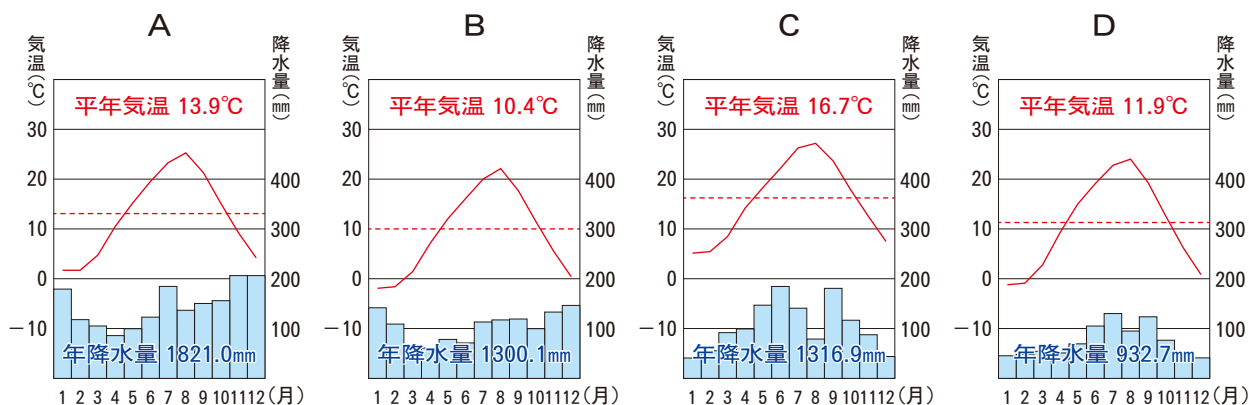
資料1

ア		イ		ウ		エ	
1位	新潟	1位	青森	1位	和歌山	1位	長野
2位	北海道	2位	長野	2位	愛媛	2位	茨城
3位	秋田	3位	山形	3位	静岡	3位	群馬
4位	山形	4位	岩手	4位	熊本	4位	長崎

(『2019データブック オブ・ザ・ワールド』より作成)

- (2) 資料2は、米、レタス、りんご、みかんの収穫高1位の県の雨温図を示したものである。A～Dの県の組み合わせとして正しいものを、下のア～エからひとつ選んで記号で答えなさい。

資料2



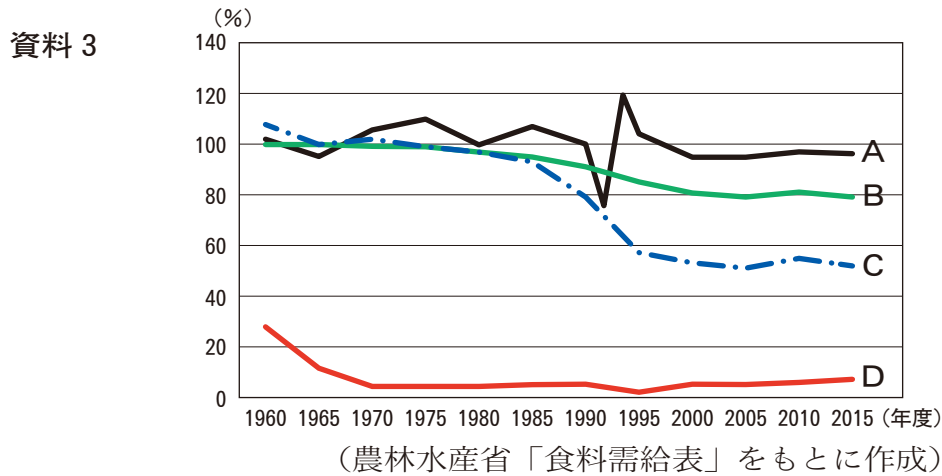
(『理科年表2019』より作成)

- | | | | | |
|---|-------|-------|-------|------|
| ア | A 和歌山 | B 青森 | C 長野 | D 新潟 |
| イ | A 青森 | B 和歌山 | C 新潟 | D 長野 |
| ウ | A 長野 | B 新潟 | C 和歌山 | D 青森 |
| エ | A 新潟 | B 青森 | C 和歌山 | D 長野 |

問2 下線部②について、住んでいる土地の近くで生産された農産物や水産物を使って、調理し食べることを何というか。漢字4文字で答えなさい。

(答えはすべて解答用紙に記入しなさい)

問3 下線部③について、資料3は1960年度～2015年度における米、大豆、野菜、魚介類の自給率の推移を示したものである。A～Dの品目の組み合わせとして正しいものを、下のア～カからひとつ選んで記号で答えなさい。



- | | | | | | | | | |
|---|---|-----|---|-----|---|-----|---|-----|
| ア | A | 野菜 | B | 魚介類 | C | 米 | D | 大豆 |
| イ | A | 野菜 | B | 米 | C | 大豆 | D | 魚介類 |
| ウ | A | 魚介類 | B | 大豆 | C | 米 | D | 野菜 |
| エ | A | 魚介類 | B | 米 | C | 大豆 | D | 野菜 |
| オ | A | 米 | B | 野菜 | C | 魚介類 | D | 大豆 |
| カ | A | 米 | B | 大豆 | C | 野菜 | D | 魚介類 |

問4 下線部④について、資料4は2017年における牛肉、豚肉、小麦、大豆の輸入相手国と、その金額による割合を示したものである。A～Cの国名の組み合わせとして正しいものを、下のア～カからひとつ選んで記号で答えなさい。

資料4

牛肉	B	A	ニュージーランド	C	メキシコ	その他
	49.7%	43.1%	3.2%	2.3%	1.4%	0.3%
豚肉	A	C	デンマーク	スペイン	メキシコ	その他
	28.6%	23.2%	12.3%	11.6%	9.3%	15.0%
小麦	A	C	B	ウクライナ	ロシア	その他
	50.4%	30.7%	17.5%	0.5%	0.4%	0.5%
大豆	A	ブラジル	C	中国	その他	
	71.5%	13.8%	13.0%	1.7%	0%	

(『2019データブック オブ・ザ・ワールド』より作成)

- | | | | | | | |
|---|---|---------|---|---------|---|---------|
| ア | A | オーストラリア | B | アメリカ | C | イギリス |
| イ | A | オーストラリア | B | イギリス | C | カナダ |
| ウ | A | アメリカ | B | オーストラリア | C | カナダ |
| エ | A | アメリカ | B | イギリス | C | オーストラリア |
| オ | A | イギリス | B | オーストラリア | C | アメリカ |
| カ | A | イギリス | B | アメリカ | C | カナダ |

(答えはすべて解答用紙に記入しなさい)

問5 文章中の空欄⑤に当てはまる数字を答えなさい。

問6 下線部⑥, ⑦について, 日本の東西南北の端の4島のうち南鳥島みなみとりしまの場所を, 右の地図中のア～エからひとつ選んで記号で答えなさい。また地図中の矢印で示した海流を何というか。漢字2文字で答えなさい。



問7 下線部⑧について, 資料5は1960年～2010年における1人1日あたりの魚介類きょうきゅうの供給量(食料として提供される量)と, 1年間の魚介類の国内生産量の推移を示したものである。この資料について説明した文として誤っているものを, 下のア～エからひとつ選んで記号で答えなさい。

資料5

年	1960	1965	1970	1975	1980	1985	1990	1995	2000	2005	2010
1人1日供給量<g>	76.1	77.0	86.5	95.4	95.3	96.8	102.8	107.3	101.8	94.9	80.6
国内生産量<千t>	5,803	6,502	8,794	9,918	10,425	11,464	10,278	6,768	5,736	5,152	4,782

(『数字でみる日本の100年 改訂第6版』2013年をもとに作成)

- ア 1995年まで1人1日あたりの供給量が増加した理由として, 沖合漁業の生産量が増加したことがあげられる。
- イ 1995年まで1人1日あたりの供給量が増加した理由として, 水産物輸入量が増加したことがあげられる。
- ウ 1990年以降に国内生産量が減少した理由として, 乱獲による水産資源の減少があげられる。
- エ 1990年以降に国内生産量が減少した理由として, 多くの国が漁業水域を設定したことにより, 遠洋漁業の操業範囲が狭められたことがあげられる。

(答えはすべて解答用紙に記入しなさい)

第2問 次の資料は、1950年以降に発行された日本の紙幣にデザインされている、主な人物についてまとめたものである。これを見て各問いに答えなさい。

資料

発行開始年月	紙幣の種類	人物名	人物の説明
1950年 1月 1957年 10月 1958年 12月	千円券 五千円券 一万円券	(1)	推古天皇の ^{せつしやう} 摂政として国づくりに努め、十七条の憲法や冠位十二階を定めました。また、仏教をあつく信仰しました。
1951年 4月	五百円券	^{いわくらともみ} 岩倉具視	京都の公家として倒幕運動を推進しました。明治維新後も新政府の要職を務め、 ^{けんおうしせつ} 遣欧使節を率いてヨーロッパ諸国を訪問しました。
1953年 12月	百円券	(2)	国会の開設を求めて自由民権運動を展開しました。明治新政府が、①薩摩藩や長州藩の一部の者で占められていることを批判しました。
1963年 11月	千円券	(X)	吉田松陰に学んだ、明治維新の功労者の一人です。日本最初の内閣総理大臣となりました。
1984年 11月	一万円券	(3)	『学問のすゝめ』を書いて、人間の生まれながらの平等や、一国の独立を保つうえでの学問の重要性を説きました。
1984年 11月	五千円券	^{にとべいなぞう} 新渡戸稲造	第一次世界大戦後の1920年に発足した国際連盟で事務局次長を務めました。「太平洋の橋になりたい」として、特に②日米間の関係を重視しました。
1984年 11月	千円券	(Y)	日本の近代を代表する小説家です。『坊っちゃん』、『こゝろ』、『吾輩は猫である』などが代表作として知られています。
2000年 7月	③二千円券	(4)	天皇の妃だった④藤原道長の娘に仕え、『源氏物語』を書きました。当時、 ^{ちやうてい} 朝廷に仕えた女性たちは、多くの文学作品を ^{のこ} 遺しました。
2004年 11月	五千円券	^{ひぐちいちよう} 樋口一葉	女性の小説家です。『たけくらべ』、『にごりえ』などの作品で知られています。
2004年 11月	千円券	(5)	日本を代表する細菌学者です。アフリカで ^{おう} 黄熱病の研究に打ち込みましたが、感染して現地で亡くなりました。

(答えはすべて解答用紙に記入しなさい)

問1 資料中の空欄（ 1 ）～（ 5 ）に当てはまる人物名を、次のア～クからひとつずつ選んで、記号で選びなさい。

- ア 板垣退助 イ 紫式部 ウ 源頼朝 エ 聖徳太子
オ 中臣鎌足 カ 野口英世 キ 杉田玄白 ク 福沢諭吉

問2 資料中の空欄（ X ），（ Y ）に当てはまる人物名を漢字で答えなさい。

問3 下線部①について、薩摩藩と長州藩のいずれの出身でもない人物を、次のア～エからひとつ選んで記号で答えなさい。

- ア 木戸孝允 イ 山県有朋 ウ 坂本龍馬 エ 大久保利通

問4 下線部②について、日本初の女子留学生としてアメリカに留学し、帰国後はその一生を日本の新しい女子教育にささげた人物を、次のア～エからひとつ選んで記号で答えなさい。

- ア 与謝野晶子 イ 新島八重 ウ 市川房枝 エ 津田梅子

問5 下線部③について、二千年券には人物のほかにある建築物がデザインされている。その建築物の写真として正しいものを、次のア～エからひとつ選んで記号で答えなさい。



問6 下線部④について、藤原道長の子で、十円硬貨にデザインされている平等院鳳凰堂を建てた人物を、次のア～エからひとつ選んで記号で答えなさい。

- ア 藤原不比等 イ 藤原清衡 ウ 藤原頼通 エ 藤原秀衡

（答えはすべて解答用紙に記入しなさい）

第3問 日本国憲法に関する次の文章A、Bを読み、各問いに答えなさい。

A 日本国憲法は①1946年11月3日に公布され、翌年5月3日に施行された。11章103条から成っているが、条文の前には前文があり、ここに日本国憲法制定の目的を読み取ることができる。その冒頭には次のように記されている。

「日本国民は、正当に選挙された国会における代表者を通じて行動し、われらとわれらの子孫のために、諸国民との協和による成果と、わが国全土にわたつ（っ）て自由のもたらす恵沢を確保し、政府の行為によつ（っ）て再び戦争の惨禍が起こることのないや（よ）うにすることを決意し、ここに主権が国民に存することを宣言し、この憲法を確定する。」※

※ 文中の（ ）内の文字は現代のかなづかいに改めたものである。協和とは「仲良く力を合わせること」、恵沢とは「めぐみと情け」、惨禍とは「いたましいわざわい」という意味である。

B 日本国憲法は国民主権、平和主義、基本的人権の尊重を三大原則としている。大日本帝国憲法において国家元首であった天皇は、日本国と日本国民統合の（ X ）として位置付けられた。また戦争の放棄と戦力の不保持が定められ、②基本的人権も永久不可侵の権利として保障された。

国民主権のもとでの③三権分立にも特色があり、国権の最高機関である国会は衆議院と参議院の④二院制である。議員定数や任期、⑤選挙制度に違いがあり、権限においては衆議院に優越が認められている。内閣総理大臣は国会の議決によって指名されて内閣を組織するが、国会に対して連帯責任を負う。裁判所は国会、内閣からは独立している。

問1 下線部①について、1946年よりも前に起きた出来事について記した文として正しいものを、次のア～エからひとつ選んで記号で答えなさい。

ア 湯川秀樹が日本人として初めてノーベル物理学賞を受賞した。

イ 日米安全保障条約が締結され、アメリカ軍が日本に駐留することになった。

ウ ポツダム宣言を受諾して、日本は連合国に無条件降伏した。

エ 小学校と中学校の9年間が義務教育として定められた。

（答えはすべて解答用紙に記入しなさい）

問2 Aの文章から読み取ることができる日本国憲法制定の目的として誤っているものを、次のア～エからひとつ選んで記号で答えなさい。

- ア 国民が平等で不正のない選挙で選ばれた代表者によって導かれるようにするため。
- イ 特定の国々と仲良く力を合わせて、国民が豊かな生活を取り戻せるようにするため。
- ウ 政府が再び戦争という、いたましいわざわいを起こすことがないようにするため。
- エ 国民が自由によるめぐみと情けを受けることができるようにするため。

問3 下線部②について、日本国憲法の条文には直接の規定はないが、人権として主張されるようになったものを、次のア～エからひとつ選んで記号で答えなさい。

- ア 教育を受ける権利
- イ 裁判を受ける権利
- ウ プライバシーの権利
- エ 思想・良心の自由

問4 下線部③について、三権のうち国会、内閣、裁判所が持っている権限についての組み合わせとして正しいものを、次のア～オからひとつ選んで記号で答えなさい。

	国会	内閣	裁判所
ア	行政	立法	司法
イ	立法	司法	行政
ウ	司法	行政	立法
エ	行政	司法	立法
オ	立法	行政	司法

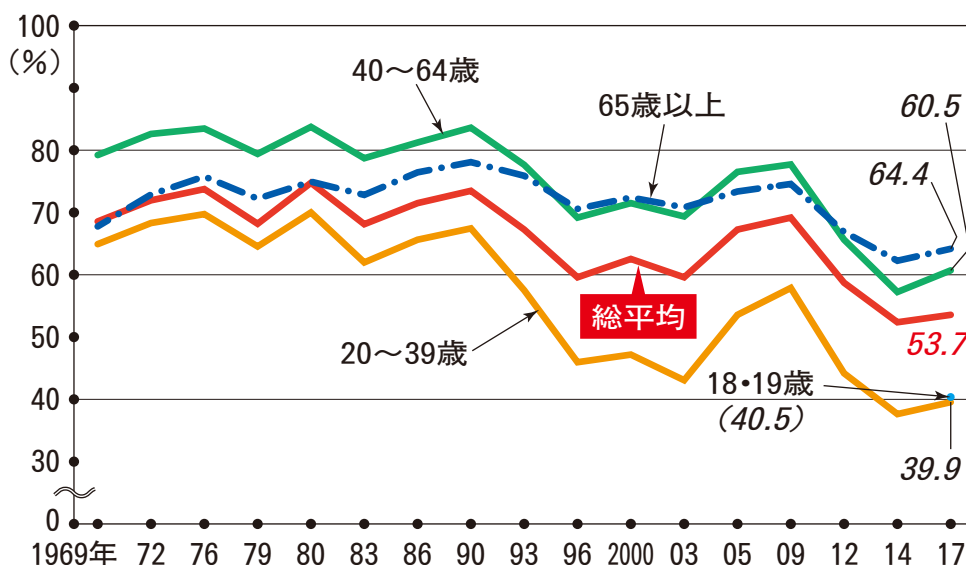
問5 下線部④について、二院制の長所について記した文として誤っているものを、次のア～エからひとつ選んで記号で答えなさい。

- ア 衆議院と参議院とで慎重に審議^{しんぎ}することで、一方による行き過ぎを防止することができる。
- イ 衆議院と参議院がそれぞれ異なる任期、選出方法を持つことで、国民の多様な意見を反映させることができる。
- ウ 衆議院と参議院はいずれも内閣によって解散できるため、国民の意見をいつでも反映させることができる。
- エ 衆議院が解散しているときは、緊急の議事に参議院が対応することができる。

(答えはすべて解答用紙に記入しなさい)

問6 下線部⑤について、2015年に公職選挙法が改正され、選挙権の年齢が18歳以上に引き下げられた。このことに関する次の資料1、2から読み取ることができる内容を記した文として正しいものを、下のア～エからひとつ選んで記号で答えなさい。

資料1 衆議院議員総選挙における年代別投票率の推移 ※



※：年代別投票率は、18・19歳を除き、全国投票区の中から抽出した一部の選挙区の平均。

資料2 2017年衆議院議員総選挙の年代別有権者数、投票率、投票者数

有権者数	投票率	投票者数
65歳以上 約3520万人	64.4%	約2270万人
40～64歳 約4250万人	60.5%	約2570万人
20～39歳 約2750万人	39.9%	約1100万人
18・19歳 約250万人	40.5%	約100万人

(資料1、2ともに総務省資料より作成)

- ア 2017年の衆議院議員総選挙では18・19歳の投票率は60%を超えた。
- イ 2017年の衆議院議員総選挙における65歳以上の投票者数は、全投票者数の64.4%を占めている。
- ウ 2017年の衆議院議員総選挙において当選するためには、65歳以上の高齢者向けの政策よりも40歳未満の若い世代向けの政策を打ち出した方が有利であった。
- エ 2017年の衆議院議員総選挙において当選するためには、40歳未満の若い世代向けの政策よりも65歳以上の高齢者向けの政策を打ち出した方が有利であった。

問7 文章中の空欄 (X) に当てはまる語句を漢字2文字で答えなさい。








(答えはすべて解答用紙に記入しなさい)

第4問 次の資料1～5を見て、各問いに答えなさい。

資料1



資料2

軽減税率(8%)が適用される商品	
飲食料品  新聞 	・酒類・外食は除く ・週2回以上発行 ・定期購読契約
8%に据え置き	
軽減税率 8%	標準税率 10%
テイクアウト 出前	 店内で食べる (イートイン)
ホテル客室の冷蔵庫の飲料など	ルームサービス
持ち帰り用に注文	食べ残しを持ち帰る
ミネラルウォーター	 水道水
飲み物用の氷	 保冷用の氷 ドライアイス
みりん風調味料	 みりん・料理酒
ノンアルコールビール 甘酒	 ビール

資料3



資料4



資料5



(答えはすべて解答用紙に記入しなさい)

問1 資料1は、新天皇即位と改元（元号を改めること）を祝って、全国各地の神社に掲げられた旗の写真である。改元と新元号について説明している文として正しいものを、次のア～エからひとつ選んで記号で答えなさい。

ア 改元は平成31年3月31日の翌日、4月1日に行われた。

イ 改元が行われた翌日に新天皇が即位した。

ウ 新元号の「令和」は日本の古典『万葉集』に由来している。

エ 「和」の漢字が元号に採用されるのは、日本の歴史上初めてである。

問2 資料2は令和元年10月1日より引き上げられた、ある税の税率についてまとめたものである。この資料についての次の各問いに答えなさい。

(1) この税の名称を漢字3文字で答えなさい。

(2) この税についての説明として正しいものを、次のア～カから2つ選んで記号で答えなさい。

ア 新しい税率は商品の種類に応じて、8%と10%の2種類である。

イ 8%と10%の2種類の税率は、いずれも軽減税率という。

ウ レストランで飲食をした場合は、8%の税率である。

エ コンビニエンスストアで缶ビールを購入した場合は8%の税率である。

オ 商品の種類に応じて税率が異なるのは、低所得者（収入が低い人々）に配慮するためである。

カ 商品の種類に応じて税率が異なるのは、税率の引き上げに反対する人々に配慮するためである。

問3 資料3は1993年に発足した地域経済統合の旗を示している。このことについての次の各問いに答えなさい。

(1) この地域経済統合を漢字4文字で何というか答えなさい。

(2) イギリスでは、2016年に国民投票によりこの地域経済統合からの離脱が選択されたものの、離脱交渉が難航したため、2019年7月に離脱派の新首相が就任した。この人物の名前を次のア～エからひとつ選んで記号で答えなさい。

ア ゴードン・ブラウン

イ トニー・ブレア

ウ デーヴィッド・キャメロン

エ ボリス・ジョンソン

(答えはすべて解答用紙に記入しなさい)

問4 資料4は2019年4月15日に火災の被害を受けた、世界遺産に登録されている建築物の写真である。この名称をA群から、またこの建築物と関係の深い人物をB群から選び、その組み合わせとして正しいものを、次のア～クからひとつ選んで記号で答えなさい。

- 【A群】 ① ウェストミンスター宮殿 ② アンコール・ワット
 ③ ノートルダム大聖堂 ④ サグラダ・ファミリア
- 【B群】 a エリザベス1世 b コロンブス
 c ナポレオン1世 d チンギス・ハン

- ア ①－a イ ①－c ウ ②－b エ ②－d
オ ③－c カ ③－d キ ④－a ク ④－b

問5 資料5は岩手県^{かまいし}釜石市に建設された釜石^{うのすまいふっこう}鶴住居復興スタジアムの写真である。このスタジアムについて説明した文として正しいものを、次のア～エからひとつ選んで記号で答えなさい。

- ア このスタジアムは1984年に日本ラグビーフットボール選手権大会で7連覇を達成した^{しん にほんせい}新日本製鐵釜石のホームグラウンドとして建設された。
- イ このスタジアムは2002年のFIFA（国際サッカー連盟）ワールドカップ日韓大会の会場として使用された。
- ウ このスタジアムは2019年のラグビーワールドカップの会場として使用された。
- エ このスタジアムは2020年開催の東京オリンピックにおいてサッカー競技場として使用される予定である。

（答えはすべて解答用紙に記入しなさい）